



**EVALUAREA COMPETENȚELOR FUNDAMENTALE
LA FINALUL CLASEI a II-a
2018**

Test 2

MATEMATICĂ

Județul / sectorul.....

Localitatea.....

Școala.....

Numele și prenumele elevei / elevului.....

.....





Clasa a II-a.....

Băiat

Fată

„VREM ÎN VACANȚĂ!”

Elevii claselor a II-a din școala noastră au hotărât ca, la vară, să aibă o vacanță deosebită. Așa că au început să organizeze diferite activități. Numărul elevilor care vor participa la fiecare dintre aceste activități este scris în tabelul de mai jos.

			
Vizită la muzeu 133	Vizită la bibliotecă 160	Concurs de pictură 55	Întreceri sportive 235

1. Câți elevi vor participa, în total, la **cele două vizite**?
Încercuiește litera corespunzătoare răspunsului corect.

- a) 193
- b) 283
- c) 293
- d) 393

Nu se completează de către elev
COD

1.

2. Doamna învățătoare compară numărul elevilor înscriși la **concursul de pictură** cu cel al elevilor de la **întrecerile sportive**.

Compară-le și tu!

Scrie, în caseta de mai jos, unul din semnele $<$, $=$, $>$ pentru ca relația să fie corectă.


55 235

Nu se completează de către elev
COD

2.

3. Cu cât este mai mare numărul elevilor de la **întrecerile sportive** față de cel al elevilor de la **concursul de pictură**? Întreabă doamna învățătoare.

Scrie, pe spațiul dat, rezolvarea problemei.



Nu se completează de către elev
COD

3.

4. Cristina are un bloc de desen, ca în imaginea de mai jos.

Cu ce figură geometrică se aseamănă blocul de desen?

Încercuiește litera corespunzătoare răspunsului corect.



- a) cerc;
- b) dreptunghi;
- c) pătrat;
- d) triunghi.

Nu se completează de către elev
COD

4.

9. Medaliile au fost aranjate în cutii respectând regula din șirul de mai jos.
Ce medalii urmează în șir?
Încercuiește litera corespunzătoare răspunsului corect.



a)



b)



c)



d)



Nu se completează de către elev
COD

9.

