



**EVALUAREA COMPETENȚELOR FUNDAMENTALE  
LA FINALUL CLASEI a II-a  
2019**

**Test 2**

**MATEMATICĂ**

**Județul / sectorul.....**

**Localitatea.....**

**Școala.....**

**Numele și prenumele elevei / elevului.....**

.....

**Clasa a II-a.....**

**Băiat**


**Fată**







5. Diana are 15 poze diferite și prezintă colegilor săi câte 3 poze în fiecare zi.  
În câte zile reușește Diana să prezinte toate pozele?  
**Află rezultatul prin scăderea repetată a aceluiași număr.**  
**Scrive, pe spațiul dat, rezolvarea problemei.**



Nu se completează de către elev  
COD

5.

6. Cu ce figură geometrică seamănă poza de mai jos?

**Încercuiește litera corespunzătoare răspunsului corect.**



- a) cerc;
- b) dreptunghi;
- c) pătrat;
- d) triunghi.

Nu se completează de către elev  
COD

6.

7. Radu a lucrat de la ora 12:00 până la ora 14:00.

Câte ore a lucrat Radu?




**Încercuiește litera corespunzătoare răspunsului corect.**

- a) 2 ore;
- b) 3 ore;
- c) 14 ore;
- d) 26 ore.

Nu se completează de către elev  
COD

7.

8. **Scrive, în spațiul dat, numele figurilor geometrice de mai jos.**



Nu se completează de către elev  
COD

8.



**FELICITĂRI, AI AJUNS LA SFÂRȘITUL TESTULUI!**

**MULȚUMIM PENTRU PARTICIPARE!**