



**EVALUAREA COMPETENȚELOR FUNDAMENTALE  
LA FINALUL CLASEI a II-a  
2020**

**MODEL  
TEST 1**

**MATEMATICĂ**

Județul / sectorul.....

Localitatea.....

Școala.....

Numele și prenumele elevei / elevului.....

.....

Clasa a II-a.....

Băiat

Fată



## MAREA NEAGRĂ



Corina, Gabriel, Simona și Tudor au realizat un proiect despre Marea Neagră, pentru care au strâns cartonașe cu informații interesante.

Numărul cartonașelor strânse de fiecare copil este trecut în tabelul de mai jos.

Corina	Gabriel	Simona	Tudor
145	132	175	166

1. Simona compară numărul cartonașelor strânse de Tudor cu numărul celor strânse de Gabriel. **Compară-le și tu!**

**Scrive, în caseta de mai jos, unul din semnele  $<$ ,  $>$ ,  $=$  pentru ca relația să fie corectă.**


166  132

*Nu se completează de către elev*  
COD

1.

2. Corina te provoacă să afli diferența dintre cel mai mare și cel mai mic număr de cartonașe strânse de fiecare dintre cei patru copii.

**Scrive, pe spațiul dat, rezolvarea problemei.**



*Nu se completează de către elev*  
COD

2.





7. Gabriel se joacă împreună cu ceilalți colegi și așază cartonașele, respectând regula din șirul de mai jos.

Ce cartonașe urmează în șir?

**Încercuiește litera corespunzătoare răspunsului corect.**



a)



b)



c)



d)



Nu se completează de către elev  
COD

7.

8. Tudor a prezentat 30 de cartonașe cu informații despre câțiva pești care trăiesc în Marea Neagră. El a folosit câte 10 cartonașe pentru fiecare pește.

**Câți pești a prezentat Tudor?**

**Încercuiește litera corespunzătoare răspunsului corect.**

- a) 0;
- b) 3;
- c) 20;
- d) 30.

Nu se completează de către elev  
COD

8.

9. Pentru prezentarea sa, Tudor a lucrat de la ora 11:00 până la ora 14:00.

Câte ore a lucrat Tudor?

**Încercuiește litera corespunzătoare răspunsului corect.**

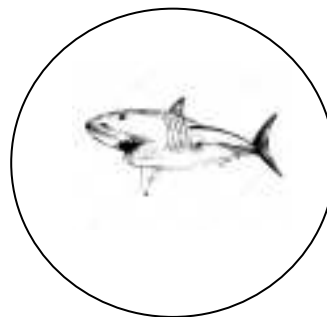
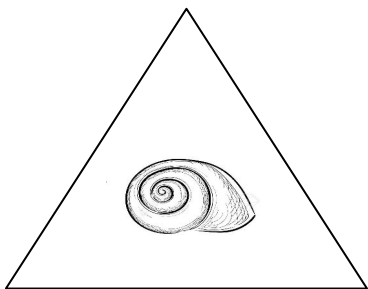
- a) 3 ore;
- b) 4 ore;
- c) 14 ore;
- d) 25 ore.

Nu se completează de către elev  
COD

9.

10. Gabriel a folosit cartonașe de diferite forme geometrice.

**Scrie, în spațiul dat, numele formei geometrice pe care o are cartonașul care prezintă un rechin.**



**Cartonașul care prezintă un rechin are forma de \_\_\_\_\_ .**

Nu se completează de către elev  
COD

10.



11. Simona a prezentat o imagine cu patru timbre cu animale care trăiesc în Marea Neagră.  
În ce parte a imaginii se află timbrul cu un căluț de mare?  
Încercuiește litera corespunzătoare răspunsului corect.



- a) dreapta jos;
- b) dreapta sus;
- c) stânga jos;
- d) stânga sus.

Nu se completează de către elev  
COD

11.



