



**EVALUAREA COMPETENȚELOR FUNDAMENTALE
LA FINALUL CLASEI a II-a
2020**

**MODEL
TEST 2**

MATEMATICĂ

Județul / sectorul.....

Localitatea.....

Școala.....

Numele și prenumele elevei / elevului.....

.....

Clasa a II-a.....

Băiat

Fată

DELTA DUNĂRII



Bianca, Cosmin, Diana și Radu au pregătit un proiect despre Delta Dunării, așa că au strâns cartonașe cu informații interesante.

Numărul cartonașelor strânse de fiecare copil este trecut în tabelul de mai jos.

Bianca	Cosmin	Diana	Radu
135	121	168	155

1. Diana compară numărul cartonașelor strânse de Cosmin cu numărul celor strânse de Radu. **Compară-le și tu!**

Scrive, în caseta de mai jos, unul din semnele $<$, $>$, $=$ pentru ca relația să fie corectă.


121 155

Nu se completează de către elev
COD

1.

2. Bianca te provoacă să afli diferența dintre cel mai mare și cel mai mic număr de cartonașe strânse de fiecare dintre cei patru copii.

Scrive, pe spațiul dat, rezolvarea problemei.



Nu se completează de către elev
COD


2.

5. Diana vrea să le prezinte colegilor săi 15 cartonașe cu informații despre Delta Dunării. Ea alege câte 3 cartonașe diferite pentru fiecare zi.

În câte zile reușește Diana să termine prezentările?

Află rezultatul prin scăderea repetată a aceluiași număr.

Scrie, pe spațiul dat, rezolvarea problemei.



Nu se completează de către elev
COD

5.

6. Bianca le prezintă colegilor un afiș din Delta Dunării.

Cu ce figură geometrică seamănă acest afiș?

Încercuiește litera corespunzătoare răspunsului corect.



- a) cerc;
- b) dreptunghi;
- c) pătrat;
- d) triunghi.




Nu se completează de către elev
COD

6.

7. Cosmin se joacă împreună cu ceilalți colegi și așază cartonașele, respectând regula din șirul de mai jos.

Ce cartonașe urmează în șir?

Încercuiește litera corespunzătoare răspunsului corect.



Nu se completează de către elev
COD

7.

8. Radu a prezentat 40 de cartonașe cu informații despre câteva păsări care trăiesc în Delta Dunării. El a folosit câte 10 cartonașe pentru fiecare pasăre.

Câte păsări a prezentat Radu?

Încercuiește litera corespunzătoare răspunsului corect.

- a) 0;
- b) 4;
- c) 30;
- d) 40.

Nu se completează de către elev
COD

8.

9. Pentru prezentarea sa, Radu a lucrat de la ora 12:00 până la ora 14:00.

Câte ore a lucrat Radu?

Încercuiește litera corespunzătoare răspunsului corect.



- a) 2 ore;
- b) 3 ore;
- c) 14 ore;
- d) 26 ore.

Nu se completează de către elev
COD

9.

10. Cosmin a folosit cartonașe de diferite forme geometrice.

Scrie, în spațiul dat, numele formei geometrice pe care o are cartonașul care prezintă un nufăr.



Cartonașul care prezintă un nufăr are forma de _____.

Nu se completează de către elev
COD

10.

11. Diana a prezentat imaginea de mai jos, din Delta Dunării, în care este ilustrat apusul soarelui.

**În ce parte este situat soarele în imaginea prezentată de Diana?
Încercuiește litera corespunzătoare răspunsului corect.**



- a) dreapta jos;
- b) dreapta sus;
- c) stânga jos;
- d) stânga sus.

*Nu se completează de către elev
COD*

11.

