



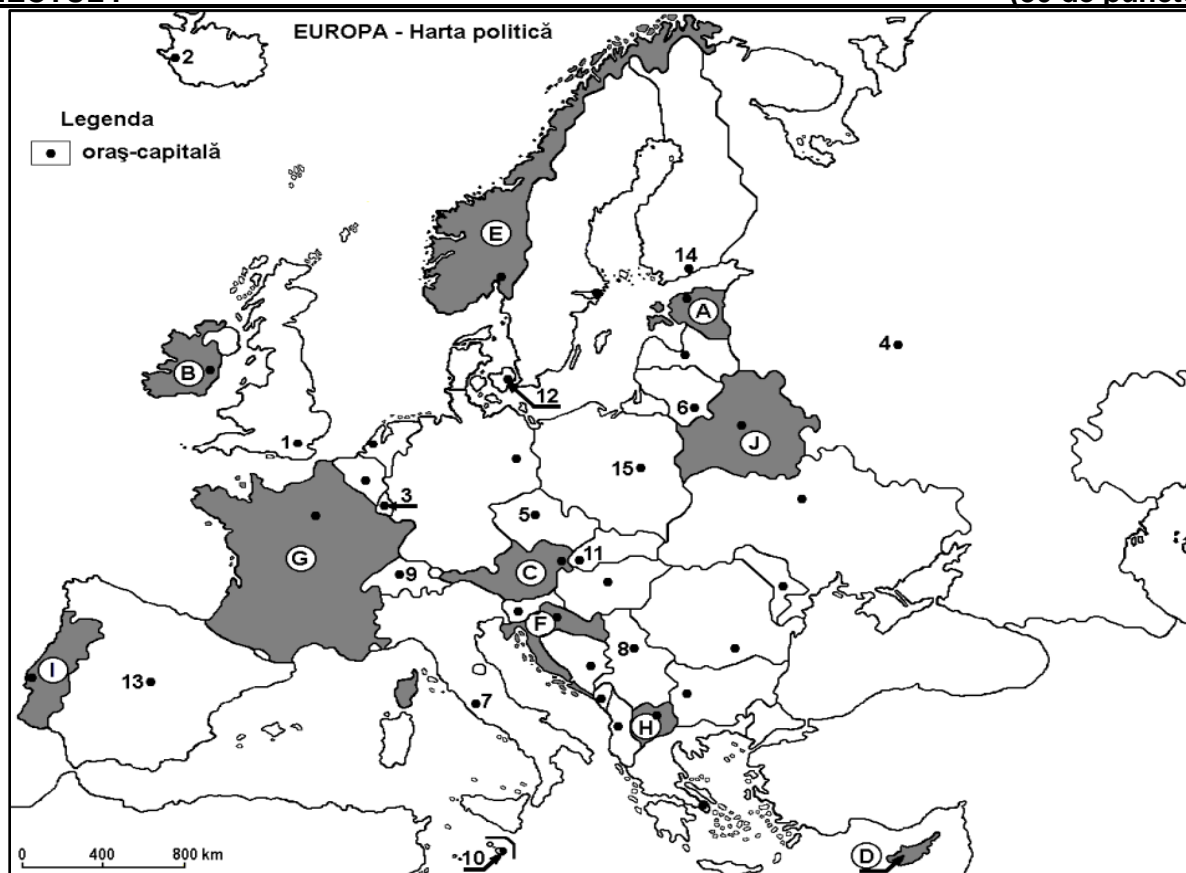
EXAMENUL DE BACALAUREAT 2023
Proba E. d) – simulare județeană
Geografie

Profilul umanist din filiera teoretică, profilul servicii din filiera tehnologică și toate profilurile și specializările din filiera vocațională, cu excepția profilului militar.

- Toate subiectele sunt obligatorii. Se acordă 10 puncte din oficiu.
- Timpul de lucru efectiv este de 3 ore.

SUBIECTUL I

(30 de puncte)



Harta de mai sus se referă la subiectul I A – E. Pe hartă sunt marcate state cu litere și orașe - capitală cu numere.

A. Precizați:

1. Litera care marchează, pe hartă, statul pe teritoriul căruia se află insula Cipru;
2. Numărul care marchează, pe hartă, orașul-capitală al statului pe teritoriul căruia se află peninsula Iutlanda.

4 puncte

B. Scrieți, pe foaia de examen, răspunsurile corecte care completează afirmațiile de mai jos:

1. În nordul statului marcat, pe hartă, cu litera E este climă ...
2. Are deschidere la Golful Finic statul marcat, pe hartă, cu litera
3. Fluviul Pad străbate teritoriul statului a cărui oraș-capitală este marcat, pe hartă, cu numărul ...

6 puncte

C. Scrieți, pe foaia de examen, litera corespunzătoare răspunsului corect pentru fiecare dintre afirmațiile de mai jos:



1. Țărmuri cu fiorduri sunt specifice pe teritoriului statului marcat, pe hartă, cu litera:
a. C b. E c. F d. G **2 puncte**
2. Râul Vistula străbate orașul-capitală marcat, pe hartă, cu numărul:
a. 4 b. 6 c. 11 d. 15 **2 puncte**
3. Vulcanism activ este prezent în Europa pe teritoriul statului a cărui oraș-capitală este marcat, pe hartă, cu numărul:
a. 2 b. 4 c. 12 d. 14 **2 puncte**
4. Vegetație de tip maquis se găsește pe teritoriul statului marcat, pe hartă, cu litera:
a. B b. E c. F d. G **2 puncte**
5. Statul cu cele mai mari resurse energetice are orașul-capitală marcat, pe hartă, cu numărul:
a. 4 b. 6 c. 9 d. 10 **2 puncte**

D. Prezentați trei deosebiri între **clima** statului marcat, pe hartă, cu litera **B** și **clima** statului marcat, pe hartă, cu litera **D**.

Nota 1: Deosebirile se pot referi la oricare dintre următoarele elemente de **climă**: factori genetici, tip de climă, temperaturi medii anuale/vara/iarna, amplitudine termică, precipitații medii anuale/vara/iarna, vânturi cu frecvență ridicată.

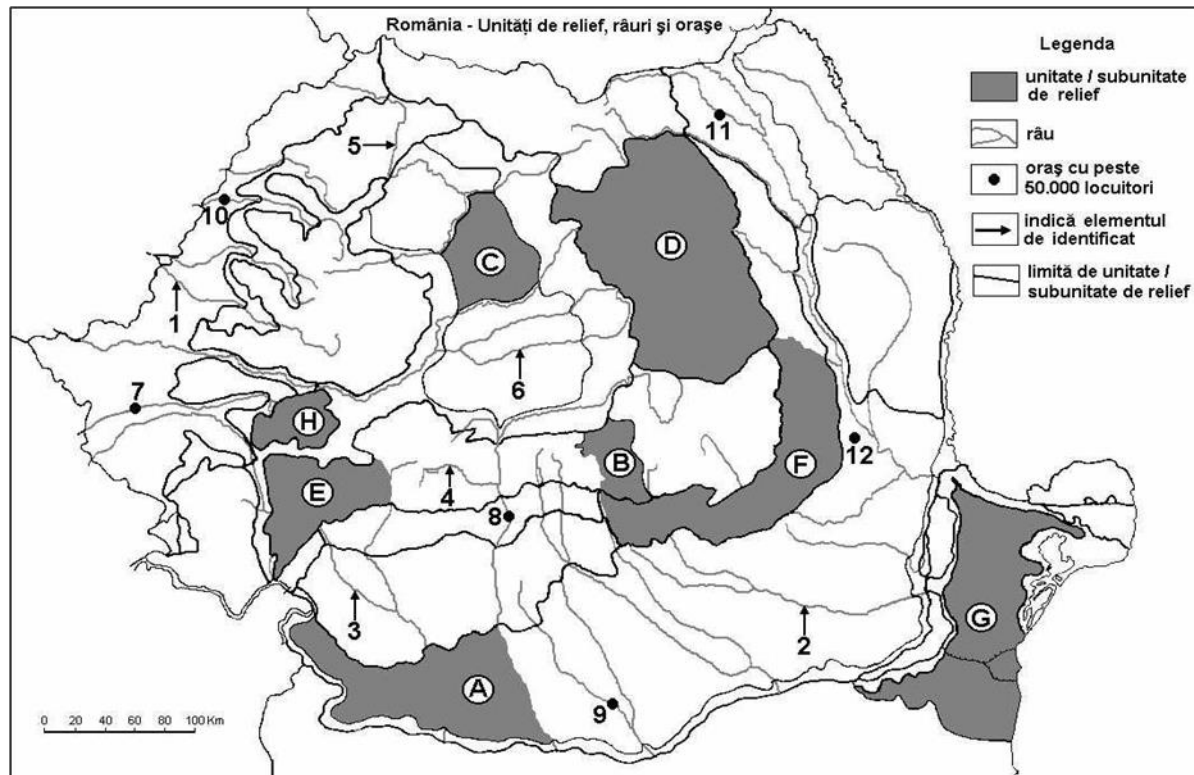
Nota 2: Punctajul complet va fi acordat numai dacă deosebirile vor fi prezentate comparativ și nu separat. **6 puncte**

E. Prezentați două cauze care să explice amplitudinea termică anuală redusă din climatul temperat-oceanic.

4 puncte

SUBIECTUL al II-lea

(30 de puncte)



Harta de mai sus se referă la subiectul II A – D. Pe hartă sunt marcate unități de relief cu litere, râuri cu numere de la 1 la 6 și orașe cu numere de la 7 la 12.



A. Precizați:

1. numele unității de relief marcată, pe hartă cu litera **B**;
2. numele râului marcat, pe hartă, cu numărul **2**. **4 puncte**

B. Scrieți, pe foaia de examen, răspunsurile corecte care completează afirmațiile de mai jos:

1. Râul Crișul Alb este marcat, pe hartă, cu numărul ...
2. Unitatea de relief marcată, pe hartă, cu litera **H** se numește ...
3. Râul care trece prin orașul marcat, pe hartă, cu numărul **8** se numește ... **6 puncte**

C. Scrieți, pe foaia de examen, litera corespunzătoare răspunsului corect pentru fiecare dintre afirmațiile de mai jos:

1. Relief vulcanic se găsește în unitatea de relief marcată, pe hartă, cu litera:
a. B b. C c. D d. E **2 puncte**
2. Râul marcat, pe hartă, cu numărul **6** se numește:
a. Bistrița b. Târnava Mare c. Buzău d. Trotuș **2 puncte**
3. În unitatea de relief marcată, pe hartă, cu litera **G** pătrund influențe climatice:
a. baltice b. submediteraneene c. oceanice d. pontice **2 puncte**
4. Minereuri de fier există în unitatea de relief marcată, pe hartă, cu litera:
a. A b. E c. F d. H **2 puncte**
5. Lacul Bucura se găsește în unitatea de relief marcată, pe hartă, cu litera:
a. A b. C c. D d. E **2 puncte**

D. Prezentați trei deosebiri între relieful unității marcate, pe hartă, cu litera **F și relieful unității marcate, pe hartă, cu litera **G**.**

Nota 1: Deosebirile se pot referi la oricare dintre următoarele aspecte ale reliefului: mod de formare, tipuri de roci pe care s-a format relieful, altitudini, gradul de fragmentare, tipuri genetice de relief, orientarea culmilor și a văilor principale, dispunerea depresiunilor, alte aspecte specifice ale reliefului.

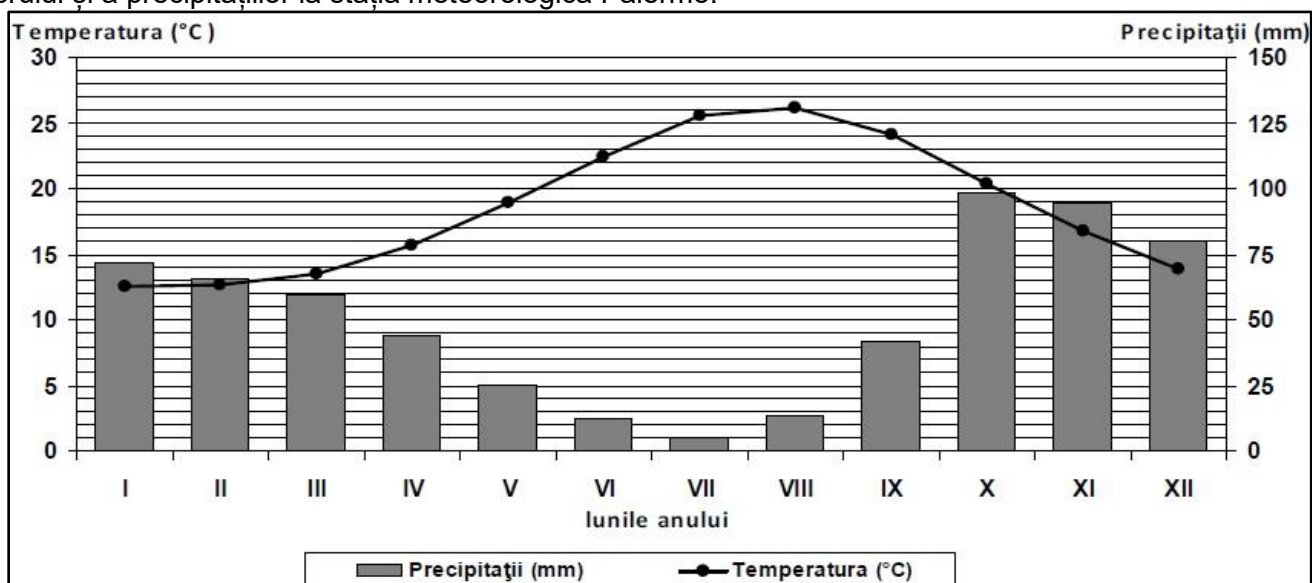
Nota 2: Punctajul complet va fi acordat numai dacă deosebirile vor fi prezentate comparativ și nu separat. **6 puncte**

E. Prezentați doi factori care au contribuit la formarea Deltei Dunării. **4 puncte**

SUBIECTUL al III-lea

(30 de puncte)

Reprezentarea grafică de mai jos se referă la subiectul III A-B și prezintă evoluția temperaturii aerului și a precipitațiilor la stația meteorologică Palermo.





A. Precizați:

1. valoarea minimă a cantității de precipitații lunare, precum și luna în care se înregistrează;
2. valoarea maximă a temperaturii medii lunare, precum și luna în care se înregistrează.

4 puncte

B. Scrieți litera corespunzătoare răspunsului corect, pentru fiecare dintre afirmațiile de mai jos:

1. Amplitudinea termică are valori cuprinse între:

a. 4-7°C b. 8-11°C c. 12-15°C d. 17-20°C

2. Diferența dintre cea mai ridicată și cea mai scăzută cantitate de precipitații lunare este:

a. 77-80 mm b. 83-86 mm c. 91-94 mm d. 98-101 mm

3. Tipul de climat caracteristic stației meteorologice este:

a. mediteranean b. subpolar c. temperat continental d. temperat oceanic
(subtropical) excesiv

6 puncte

C. Pentru fluviul Dunărea, precizați:

1. numele a trei state traversate, cu excepția României;
2. numele a două unități de relief traversate;
3. numele a trei afluenți din afara României;
4. numele a două orașe-capitală pe care le străbate.

10 puncte

D. Următorul tabel se referă la subiectul III D.

| Țara | Temperatura aerului în ianuarie (T°C) | Temperatura aerului în iulie (T°C) | Precipitații medii (mm/an) |
|---------|--|---------------------------------------|-------------------------------|
| Ucraina | -7,1 | 23,8 | 520 |
| Ungaria | -5,1 | 21,2 | 700 |

Precizați:

1. amplitudinea termică anuală pentru Ucraina, respectiv pentru Ungaria;
2. influențele climatice dominante pentru fiecare din cele două țări.

6 puncte

E. Prezentați doi factori care favorizează dezvoltarea stepii în estul Europei.

4 puncte