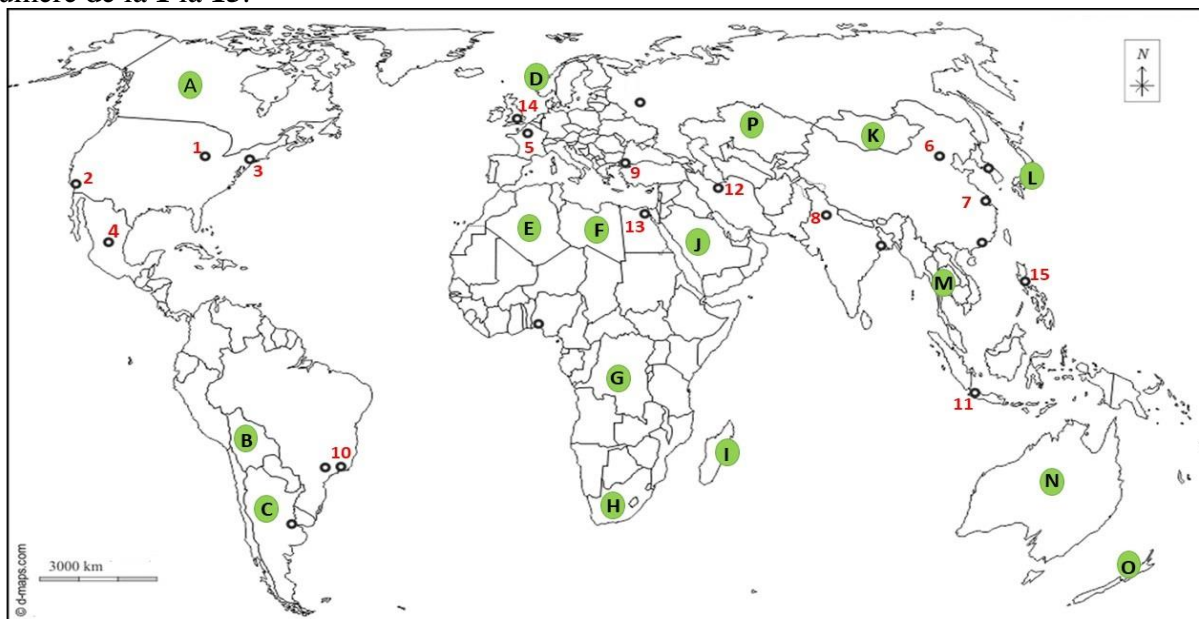


TEST DE EVALUARE ÎNȚIALĂ

Disciplina: Geografie-clasa a XI-a

- Pentru rezolvarea corectă a tuturor cerințelor se acordă 90 de puncte. Din oficiu se acordă 10 puncte.
- Timpul efectiv de lucru este de 50 de minute.

I. Harta de mai jos se referă la subiectele I A-C. Pe hartă sunt marcate state cu litere de la A la R și orașe cu numere de la 1 la 15.



- A. Scrie, pe foaia de test, răspunsul ce completează fiecare dintre afirmațiile de mai jos:
1. Este situat în peninsula Indochina statul marcat, pe hartă, cu litera ...
 2. Pe teritoriul statului marcat, pe hartă, cu litera **H** se găsește statul–enclavă numit ...
 3. Capitala Wellington aparține statului marcat, pe hartă, cu litera ...
 4. Este considerat transcontinental statul al cărui oraș–capitală este marcat, pe hartă, cu numărul ...
 5. Statul marcat, pe hartă, cu litera D, este situat în Peninsula ...
 6. Prima cale ferată a fost dată în exploatare în statul a cărui capitală este marcată, pe hartă, cu numărul ...
 7. A apărut în urma destrămării URSS statul marcat, pe hartă, cu litera ...
 8. Se găsește în Orientul Apropiat statul marcat, pe hartă, cu litera ...
- 16 puncte**
- B. Scrie pe foaia de test litera corespunzătoare răspunsului corect.
1. Are o capitală divizată statul marcat, pe hartă, cu litera:
a. A b. C c. H d. O
 2. Iurta este o locuință specifică statului marcat, pe hartă, cu litera:
a. C b. G c. K d. N
 3. Se vorbește limba persană în statul a cărui capitală este marcată, pe hartă, cu numărul:
a. 8 b. 11 c. 12 d. 13
 4. Este un stat alungit pe direcție N-S, statul marcat, pe hartă, cu litera :
a. A b. I c. N d. P
 5. Favelele sunt habitate suburbane sau intraurbane sărace specifice orașului marcat, pe hartă, cu numărul:
a. 2 b. 5 c. 7 d. 10

6. Este situat în megalopolisul Marilor Lacuri (Chipitts), orașul marcat, pe hartă, cu numărul:
 a. 1 b. 2 c. 3 d. 7
7. Este o monarhie ca și formă de guvernământ, statul marcat, pe hartă, cu litera:
 a. A b. C c. E d. G
8. Orașul-capitală al statului cu cel mai mare număr de locuitori este pe hartă, cu numărul:
 a. 4 b. 6 c. 8 d. 9
9. Se remarcă prin exploatarea de zăcăminte de hidrocarburi offshore, statul marcat, pe hartă, cu litera:
 a. D b. H c. K d. L
10. Orașul La Paz, situat la 4100 de m altitudine, se găsește în statul marcat, pe hartă, cu litera:
 a. B b. C c. H d. I

10 puncte

C. Scrie, pe foaia de test, asocierile corecte dintre statele marcate, pe hartă, cu litere în coloana I și capitalele acestora menționate în coloana II.

I.	II.
A	Astana
F	Canberra
G	Kinshasa
J	Ottawa
K	Riyadh
N	Tripoli
O	Ulan Bator
P	

14 puncte



II. În imaginile alăturate marcate cu numere de la 1 la 6, sunt prezentate diferite tipuri de centrale electrice. Răspundeți la următoarele cerințe. **Precizați:**

a. tipurile de centrale electrice prezentate, în fiecare dintre imaginile marcate cu numere de la 1 la 6;

6 puncte

b. câte un avantaj și un dezavantaj privind utilizarea pentru fiecare dintre tipurile de centrale identificate în imagini;

12 puncte

c. denumirea celei mari centrale de pe glob, de tipul celei din prezentate în imaginea 2.

2 puncte

Statul	Populația (mil.loc)	Suprafața (km ²)
AFGANISTAN	39 232 003	652 230
FRANȚA	68 521 974	643 801
ESTONIA	1 202 762	45 228
ETIOPIA	116 462 712	1 104 300
NORVEGIA	5 597 924	328 802

III. Aveți în vedere tabelul alăturat și răspundeți la următoarele cerințe:

a. Precizați:

1. numele statului care înregistrează o densitate medie mai redusă a populației;
2. numele statului care înregistrează o densitate medie mai ridicată a populației;

Sursa: <https://www.cia.gov/the-world-factbook>

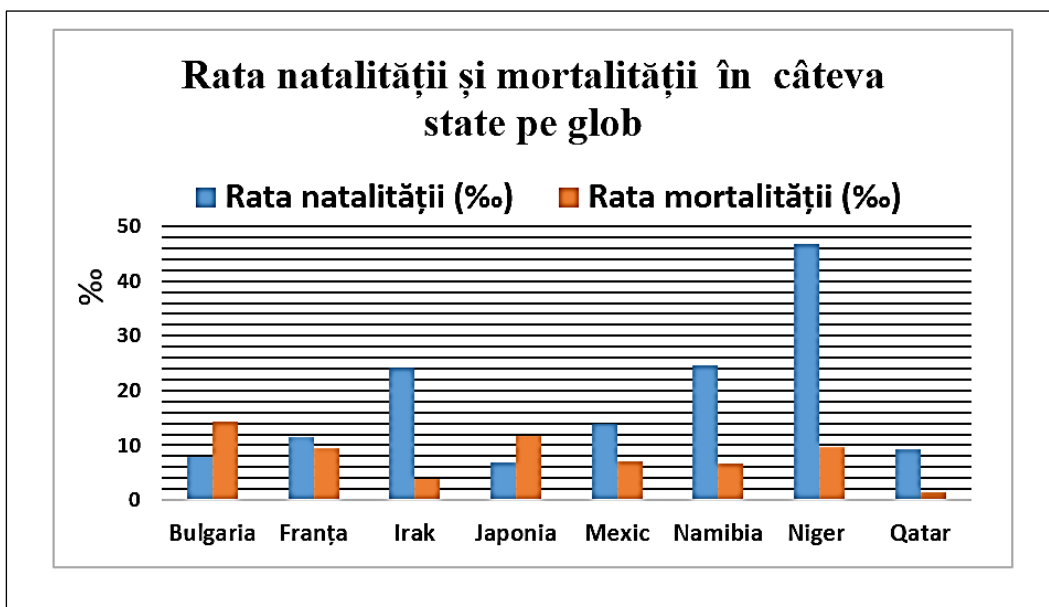
b. Prezențați o cauză care determină densitățile medii diferite ale populației între Afganistan și Franța, deși au suprafețe apropiate ca mărime.

c. Ordonăți descrescător primele trei state, din tabel, în funcție de suprafață.

d. Calculați cu cât este mai mare populația Etiopiei față de populația Estoniei.

10 puncte

IV. Reprezentarea grafică alăturată prezintă valorile ratei natalității și ale ratei mortalității în câteva state pe glob, exprimate la 1000 de locuitori (‰) (sursa *The World Factbook – CIA, 2023*)



A.

Precizați:

1. valoarea cea mai mare a ratei natalității, precum și numele statului în care s-a înregistrat;
2. valoarea cea mai mare a ratei mortalității, precum și numele statului în care s-a înregistrat.


B. Calculați:

1. bilanțul (sporul natural) în Qatar;
2. bilanțul natural (sporul natural) în Irak.

C. Prezențați:

1. un factor care determină bilanțul (sporul) natural în Japonia;
2. un factor care determină bilanțul (sporul natural) în Namibia.

10 puncte



V. Imaginile alăturate marcate cu litere de la **a** la **f** prezintă diferite tipuri de peisaje agricole. **Precizați:**

a. tipurile de peisaje agricole prezentate în fiecare dintre imaginile alăturate marcate cu litere de la **a** la **f**;

b. patru factori naturali restrictivi care acționează asupra agriculturii.

10 puncte

BAREM DE EVALUARE SI DE NOTARE

Disciplina Geografie

Clasa a XI-a

Se punctează oricare alte formulări/modalități de rezolvare corectă a cerințelor.

Nu se acordă punctaje intermediare, altele decât cele precizate explicit prin barem. Nu se acordă fracțiuni de punct.

Se acordă 10 puncte din oficiu. Nota finală se calculează prin împărțirea la 10 a punctajului total acordat.

SUBIECTUL I (40 de puncte)

A. Se acordă 2 puncte pentru răspunsurile corecte:

1. M – 2 puncte
2. Lesotho – 2 puncte
3. O - 2 puncte
4. 13 - 2 puncte
5. Scandinavă/Scandinavia – 2 puncte
6. 14 – 2 puncte
7. P – 2 puncte
8. J – 2 puncte

Total A (1+2+3+4+5+6) = 16 puncte

B. Se acordă câte 1 punct pentru fiecare răspuns corect, astfel:

- 1.c; 2.c; 3.c; 4.b; 5.d; 6.a; 7.a; 8.b; 9.a; 10.a.

Total B (1+2+3+4+5+6+7+8+9+10) = 10 puncte

C. Se acordă câte 2 puncte pentru fiecare răspuns corect, astfel:

- A – Ottawa – 2 puncte F – Tripoli – 2 puncte G – Kinshasa – 2 puncte
J – Riyadh – 2 puncte K – Ulan Bator – 2 puncte N – Canberra – 2 puncte
P – Astana – 2 puncte

Total C = 14 puncte

TOTAL SUBIECTUL I (A+B+C) = 40 puncte

SUBIECTUL II (20 puncte)

Se acordă 20 puncte astfel:

a. câte 1 punct pentru fiecare centrală electrică identificată corect (1 – atomocentrală, 2 – hidrocentrală, 3 – termocentrală, 4 – centrale eoliene, 5 – centrală solară, 6 – centrală mareomotrică)

6 puncte (6 x 1 punct = 6 puncte)

b. câte 1 punct pentru fiecare avantaj și dezavantaj al fiecărei centrale electrice identificate corect

ex: *atomocentrală* – avantaj: cantități mari de energie electrică obținute din cantități mici de combustibil atomic

- dezavantaj: pericolul accidentelor nucleare

hidrocentrală – avantaj: nepoluantă

- dezavantaj: cantitatea de energie obținută depinde de debitul râului

termocentrală – avantaj: obținerea unor cantități constante de energie electrică

- dezavantaj: poluarea aerului

centrale eoliene - avantaj: nepoluante

- dezavantaj: producția depinde de intensitatea și viteza vântului

centrală solară – avantaj: nepoluantă

- dezavantaj; producere intermitentă de energie electrică

centrală mareomotrică – avantaj: nepoluantă

- dezavantaj: împiedică circulația vapoarelor

12 puncte

c. hidrocentrala Trei Defilee (China) - **2 puncte**

TOTAL SUBIECTUL II (a+b+c) = 20 puncte

SUBIECTUL III (10 puncte)

Se acordă **10 puncte** astfel:

a.1. Norvegia - 2 puncte

a.2. Franța – 2 puncte

b. prezentarea unei cauze care determină densitățile medii diferite ale populației între Afganistan și Franța, deși au suprafețe apropiate ca mărime (*ex: populația Franței este cu 30 milioane de locuitori mai ridicată*) – **2 puncte**

c. Etiopia, Afganistan, Franța– **2 puncte**

d. 115 259 950 locuitori - **2 puncte**

TOTAL SUBIECTUL III (a+b+c+d) = 10 puncte

SUBIECTUL IV (10 puncte)

Se acordă **10 puncte** astfel:

A.1. Niger - 1 punct orice valoare cuprinsă între 45‰ și 48‰ - **1 punct;**

A.2 Bulgaria – 1 punct orice valoarea între 13‰ și 15‰ - **1 punct**

B.1 orice valoarea între 6‰ și 8‰ - **1 punct**

B.2 orice valoarea între 19‰ și 21‰ - **1 punct**

C.1 prezentarea unui factor care determină bilanțul (sporul) natural în Japonia (*ex: populația îmbătrânită ceea ce determină o rată a mortalității mai ridicată decât cea a natalității*) – **2 puncte**

C.2 prezentarea unui factor care determină bilanțul (sporul natural) în Namibia (*ex: ponderea mare a populației tinere ceea ce determină o rată a natalității mai ridicată decât cea a mortalității*) – **2 puncte**

TOTAL SUBIECTUL IV (A+B+C) = 12 puncte

SUBIECTUL V (10 puncte)

Se acordă **10 puncte** astfel:

a. câte **1 punct** pentru fiecare peisaj agricol menționat corect

a – peisajul câmpurilor cultivate închis/bocage/pays d'enclos

b – peisajul agricol musonic

c – peisajul agricol de tip deșertic

d – peisajul câmpurilor cultivate deschis/open field

e – peisajul agricol mediteranean

f – peisaj agricol specializat

b. precizarea a patru factorii naturali restrictivi care acționează asupra agriculturii (*ex: temperatura aerului, cantitatea de precipitații, fertilitatea solului, degradarea solurilor, poluare etc.*) - **4 puncte (4 x 1 punct = 4 puncte).**

TOTAL SUBIECTUL V (A+B)= 10 puncte

TOTAL (I+II+III+IV+V) = 90 puncte

Se acordă din oficiu 10 puncte