

OLIMPIADA ȘCOLARĂ DE GEOGRAFIE  
ETAPA NAȚIONALĂ  
25-30 aprilie 2024

PROBA TEORETICĂ SCRISĂ  
CLASA a X-a

- Toate subiectele sunt obligatorii. Se acordă 10 puncte din oficiu.
- Timpul de lucru efectiv este de 3 ore.

**Subiectul I (20 puncte)**

Scrieți, pe foaia de concurs, litera corespunzătoare răspunsului corect pentru fiecare dintre afirmațiile de mai jos:

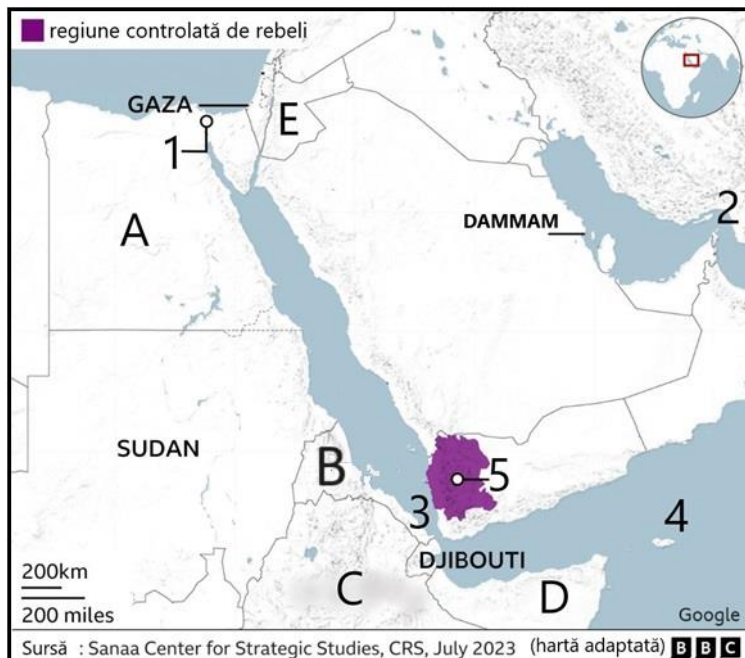
- Limba telugu este vorbită în statul:
  - Antigua și Barbuda
  - Burundi
  - India
  - Trinidad-Tobago
- O microregiune urbană cu profil turistic este:
  - Depresiunea Petroșani
  - Gliwice- Katowice
  - Valea Isère
  - Valea Rhinului
- Satul de tip ciflik apare în statul:
  - Ecuador
  - Kiribati
  - Namibia
  - Turcia
- O centrală helioteuristică este:
  - Annapolis Royal
  - La Rance
  - Matanzas
  - Odeillo
- Cele mai mari rezerve de șisturi bituminoase există în statul:
  - Afganistan
  - Africa de Sud
  - Angola
  - Australia
- O țară caracterizată prin existența grupărilor sociale de tip castă este:
  - Benin
  - India
  - Japonia
  - Turkmenistan
- Din punct de vedere al guvernării, statul Andora este:
  - co-principat parlamentar
  - monarhie absolută
  - monarhie constituțională
  - republică semiprezidențială
- Orașul care deține recordul de a fi situat la cea mai mare altitudine este:
  - Ein Bokek
  - Ushuaia
  - Thule
  - Wenzhuan
- Un oraș cu funcție culturală este:
  - Coventry
  - Leuven
  - Tubarao
  - Valparaiso
- Primul stat independent al populației de culoare în Africa a fost:
  - Benin
  - Coasta de Fildeș
  - Liberia
  - Zimbabwe

**20 puncte**

**Subiectul al II-lea (22 puncte)**

Citiți textul următor: „Americani și britanicii au bombardat pozițiile rebelilor, susținuți de Iran, în cel puțin 16 locații. În total, au fost 60 de lovituri aeriene – lansate din avioane, de pe nave de război și de la bordul unui submarin.” (Sursă <https://tvrinfo.ro/> 12 ianuarie 2024)

Pe baza hărții alăturate și a textului de mai sus, scrieți, pe foaia de concurs, răspunsurile la următoarele cerințe:



1. Precizați:

- numele statului din care fac parte rebelii;
- denumirea unei ramuri a religiei specifice populației din statul respectiv;
- numele strâmtorilor/canalelor marcate, pe hartă, cu cifrele 1, 2 și 3;
- numele statelor marcate, pe hartă, cu literele B și E, precum și capitalele acestora;
- numele insulei marcate, pe hartă, cu cifra 4, precum și statul căreia îi aparține;

f. numele a cinci mări/golfuri străbătute de navele care se deplasează, pe ruta cea mai scurtă, între porturile Dammam și Gaza.


2. Precizați o cauză pentru care americanii și britanicii au bombardat zona situată în apropierea orașului-capitală marcat cu 5.

3. Prezentați două argumente care susțin afirmația: „Blocarea canalului și strâmtorii marcate pe hartă cu cifrele 1 și 3 ar genera consecințe economice la nivel mondial”.

**22 puncte**

**Subiectul al III-lea (16 puncte)**

Utilizând suporturile/reprezentările cartografice și imaginile de mai jos, scrieți, pe foaia de concurs, răspunsurile la următoarele cerințe:



1. Realizați asocierea dintre suporturile cartografice marcate cu literele A, B, C, D și mediul de viață corespunzător ilustrat în imaginile notate cu cifrele 1, 2, 3, 4.

2. Pentru tipul de mediu de viață evidențiat în reprezentarea cartografică marcată cu litera **B**, precizați denumirile care sunt atribuite respectivei asociații vegetale în America de Nord, în America de Sud și în Asia.

3. Pentru imaginea marcată cu cifra **4**, precizați denumirea canalului ilustrat, mările între care acesta face legătura, precum și țara în care este situat.

4. Pentru suportul cartografic marcat cu litera **D**, menționați:

a. denumirea sub care este cunoscută cea mai dezvoltată/evoluată formă de concentrare urbană/aglomerare urbană existentă în acest areal geografic;

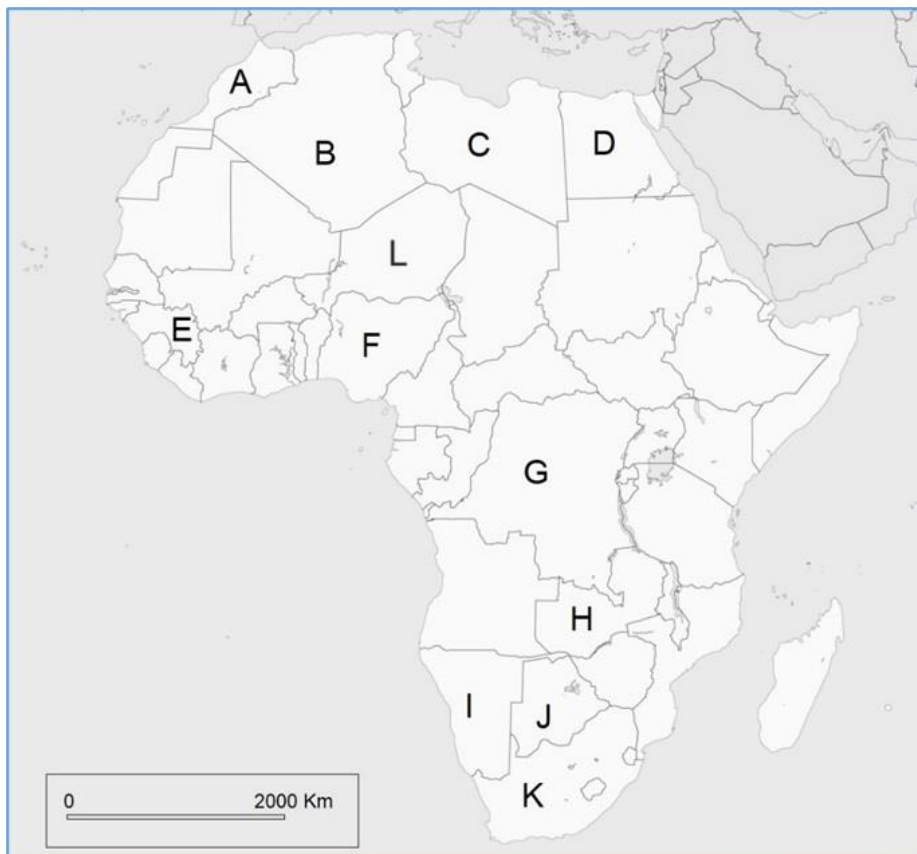
b. un factor natural favorizant și un factor natural restrictiv dezvoltării concentrării urbane;

c. doi factori antropici care au determinat evoluția concentrării urbane în acest areal geografic.

**16 puncte**

**Subiectul al IV-lea (20 puncte)**

Analizați harta de mai jos și scrieți, pe foaia de concurs, răspunsurile la următoarele cerințe:



**A. Referitor la resursele litosferei din Africa, precizați denumirea statului, dintre cele marcate cu litere pe hartă, care se remarcă prin:**

1. cele mai mari resurse de cobalt;
2. cele mai importante resurse de granit;
3. cea mai mare producție de apatite;
4. cea mai mare producție de bauxită.

**B. Precizați:**

1. numele capitalelor oficiale precum și funcția specifică fiecărei capitale din statul marcat, pe hartă, cu litera **K**;
2. numele unei populații tradiționale nomade din statul marcat, pe hartă, cu litera **G** și respectiv din statul marcat cu litera **L**;
3. denumirea unei regiuni petroliere/unui zăcământ petrolier pentru fiecare dintre statele marcate, pe hartă, cu literele **B** și **C**.
4. o caracteristică a satelor din sudul statului marcat, pe hartă, cu litera **F**;
5. o caracteristică a satelor situate la sud de Munții Atlas, în statele marcate, pe hartă, cu literele **A** și **B**.



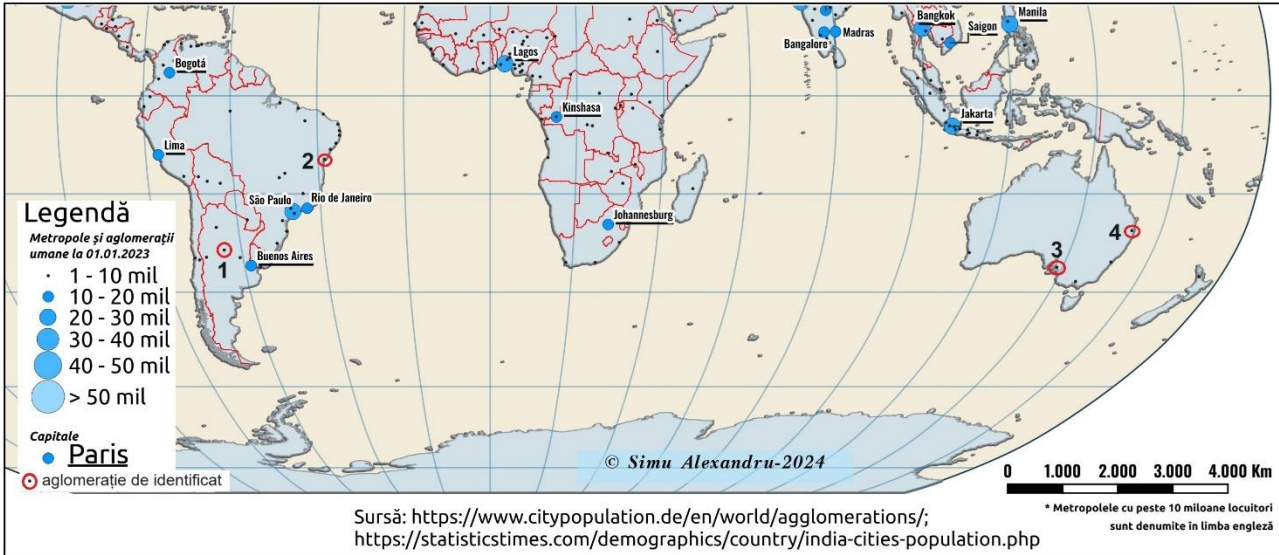
**C. Explicați:**

1. densitatea medie a populației mai redusă în statul marcat, pe hartă, cu litera **I** comparativ cu cea din statul marcat, pe hartă, cu litera **F**;
2. nivelul de dezvoltare economică mai ridicat al statului marcat, pe hartă, cu litera **K** față de celelalte state africane.

**20 puncte**

**Subiectul al V-lea (12 puncte)**

Pe harta de mai jos sunt marcate cu cifre de la 1 la 4 aglomerațiile urbane ilustrate în imaginile notate cu litere de la **A** la **D** și descrise în afirmațiile notate cu litere de la **a** la **d**.



**A**



**B**



**C**



**D**

a. Cunoscut pentru extinsele sale spații verzi, numeroasele festivaluri și diversitatea de credințe, orașul este situat în sudul țării, având în apropiere insula Kangaroo.

- b. Se definește ca un centru major de cercetare și inovare, situat pe litoralul Pacificului, un oraș modern și un nod de transport complex.
- c. Este un cunoscut centru universitar, situat în partea centrală a țării, iar fondatorul său l-a botezat inspirându-se după un oraș european.
- d. Situat în estul țării, reprezintă un centru cultural cu edificii vechi, multicolore, care pare că împrumută din veselia locuitorilor.

Pe baza materialelor suport de mai sus, scrieți, pe foaia de concurs, răspunsurile la următoarele cerințe:

1. Precizați numele orașelor marcate, pe hartă, cu cifre de la **1** la **4**.
2. Realizați corespondența orașelor marcate, pe hartă, cu cifre de la **1** la **4** cu imaginile reprezentative, notate cu litere de la **A** la **D** și cu afirmațiile care le descriu, numerotate cu litere de la **a** la **d**.

*Notă: model de rezolvare 5. E – f.*